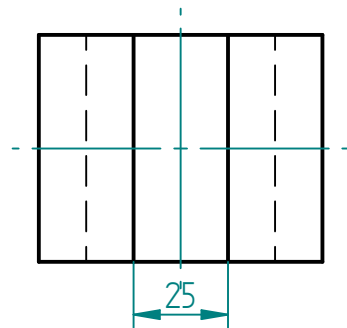
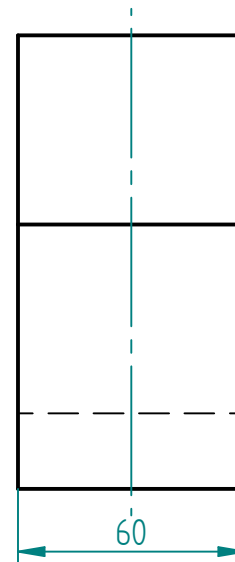
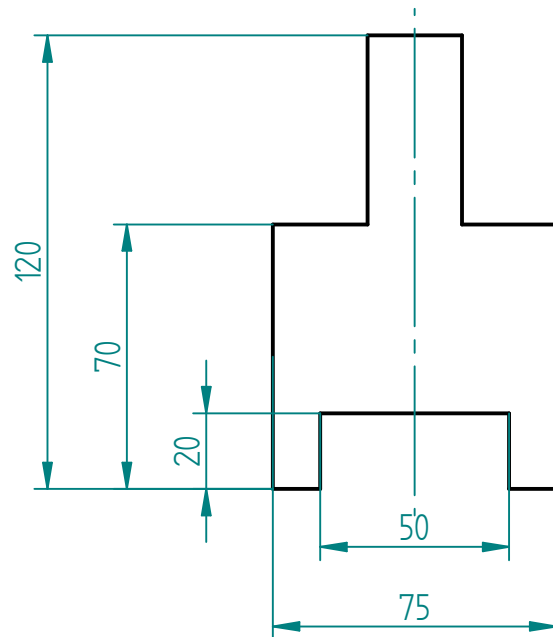


CAD-Übungsaufgabe 2-1 – Übungsaufgabe



Zeichne den Körper als Raumbild in Solid Edge (Part)

SOLID EDGE ACADEMIC COPY

| | | | | | |
|------------|-----------|------------|-----------------------|--|--|
| | Name | Datum | Hauptschule Karlstadt | | |
| Gezeichnet | C. Bordes | 20.12.2006 | | | |
| Geprüft | C. Bordes | 23.03.2020 | | | |
| Titel | | | | | |
| CAD 2-1 | | | M: 1 : 2 | | |